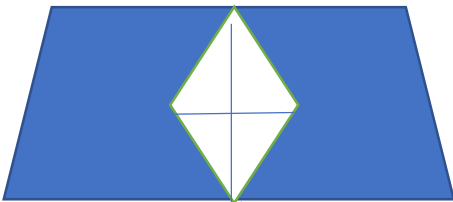

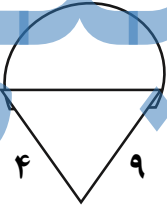
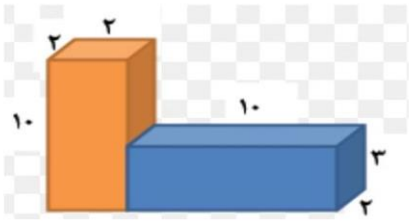
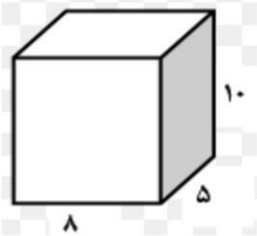


نیاز به تلاش	قابل قبول	خوب	بسیار خوب	<p>به نام خدا</p> <p>دبستان غیر دولتی خرد آموزگار : خانم ساپریان</p> <p>آزمون پایان ترم کلاس پنجم تاریخ : ۱۴۰۰/۰۲/۳۰</p>														
				<p>نمرات علیرضا در امتحانات خرداد به ترتیب ۱۸/۵ ، ۱۹ ، ۱۸ ، ۲۰ ، ۱۹/۵ است. میانگین نمرات چقدر است ؟</p> <p>۱</p>														
				<p>مساحت قسمت رنگی شکل روبه را به دست آوردید. ۱۰ سانتی متر</p>  <p>قطر بزرگ لوزی : ۸ س م</p> <p>قطر کوچک لوزی: ۶ س م</p> <p>۲</p>														
				<p>محیط شکل های زیر را به دست آوردید</p>  <p>۳</p>														
				<p>محیط مستطیلی ۷۲ سانتی متر است . اگر نسبت طول به عرض مستطیل ۷ به ۲ باشد . مساحت مستطیل را حساب کنید</p> <p>۴</p>														
				<p>جدول زیر میانگین دمای هوای یک شهر در ۶ ماه اول سال را نمایش می دهد. نمودار خط شکسته آن را رسم کنید و به سوالات زیر پاسخ دهید .</p> <table border="1" data-bbox="335 1276 1428 1400"> <thead> <tr> <th>شهریور</th> <th>مرداد</th> <th>تیر</th> <th>خرداد</th> <th>اردیبهشت</th> <th>فروردین</th> <th>ماه</th> </tr> </thead> <tbody> <tr> <td>۳۱</td> <td>۴۰</td> <td>۳۵</td> <td>۲۹</td> <td>۲۱</td> <td>۱۸</td> <td>دمای هوا</td> </tr> </tbody> </table> <p>۵</p> <p>الف) بیشترین تغییرات دما در فاصله کدام دو ماه متوالی اتفاق افتاده است ؟ ب) کمترین تغییرات دما در فاصله کدام دو ماه متوالی اتفاق افتاده است ؟ ج) میانگین دما در فصل تابستان چند درجه بوده است ؟</p>	شهریور	مرداد	تیر	خرداد	اردیبهشت	فروردین	ماه	۳۱	۴۰	۳۵	۲۹	۲۱	۱۸	دمای هوا
شهریور	مرداد	تیر	خرداد	اردیبهشت	فروردین	ماه												
۳۱	۴۰	۳۵	۲۹	۲۱	۱۸	دمای هوا												

			<p>می خواهیم دور زمینی دایره ای شکل به شعاع ۳۰ متر ، ۴ دور جدول بکشیم . به چند متر جدول احتیاج داریم ؟</p>	۶
			<p>می خواهیم ۱۲ مهره را درون کیسه قرار دهیم و بدون نگاه کردن به آن ها یک مهره از کیسه خارج کنیم . در هر مورد چند مهره از هر رنگ در کیسه قرار بدهیم تا بازی عادلانه شود ؟</p> <p>الف) اگر مهره سیاه بود بازیکن اول و اگر مهره سفید بود بازیکن دوم برنده است</p> <p>ب) اگر مهره سبز یا ابی بود بازیکن اول و اگر قرمز بود بازیکن دوم برنده است .</p>	۷
			<p>در یک کارتن به حجم ۱۸۰۰ سانتی متر مکعب چند جعبه کبریت به اندازه های ۳،۴،۵ سانتی متر جا می گیرد ؟</p>	۸
			<p>محیط شکل زیر را به دست آورید .</p> <p>قطر دایره : ۱۰ سانتی متر</p>	۹
			<p>چشم اشکال زیر را به دست آورید</p> 	۱۰